



NECMETTİN ERBAKAN AİHL  
2022-2023 EĞİTİM-ÖĞRETİM YILI SOSYOLOJİ DERSİ  
1. DÖNEM 2. YAZILI SINAVI SORULARI



Adı Soyadı:

Tarih: 30/12/2022

Sınıfı/Şube:

Numarası:

Puanı:

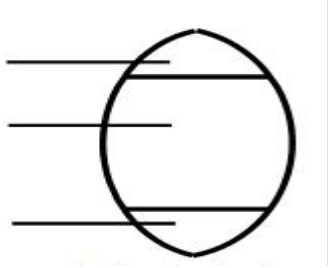
1. İnsanların gelirlerine, eğitim düzeylerine ve yaşam tarzlarına göre toplum içinde hiyerarşik bir biçimde sıralanmasına ne denir?

- A) Toplumsal hareketlilik
- B) Toplumsal Sapma
- C) Toplumsal Değişme
- D) Toplumsal prestij
- E) Toplumsal tabakalaşma

Üst tabaka

Orta tabaka

Alt tabaka

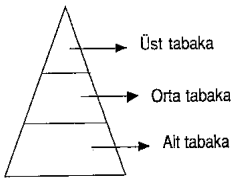


2-Yukarıdaki sosyal tabakalaşma piramidine sahip bir toplum için aşağıdakilerden hangisi söylenemez?

- A)Nüfus artış hızı azdır.
- B) Köyden kente göç oranı düşüktür.
- C) Ortalama insan ömrü kısadır.
- D) Ortalama gelir yüksektir.
- E) Sanayileşme oranı yüksektir.

I.

II.

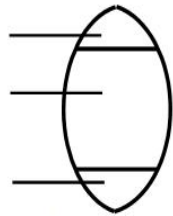


Üst tabaka

Orta tabaka

Alt tabaka

Alt tabaka



3-Yukarıdaki I. Ve II. Numaralı piramitlere göre aşağıdakilerden hangisi söylenemez?

- A) I. Piramitte doğurganlık oranı fazladır.
- B) II.nolu piramitte alt ve üst tabakların gelirleri birbirine yakındır.
- C) II.nolu piramitteki toplum I.nolu piramitteki topluma göre eğitim seviyesi daha fazladır.
- D) I. Nolu piramitteki refah düzeyi düşüktür.
- E) I. Nolu piramitte köyden kente göçler fazladır.

4-Aşağıdakilerden hangisi, dikey toplumsal hareketliliğe örnek olur?

- A-) Kent merkezinde hastanede çalışan doktorun ilçedeki hastanede çalışmaya başlaması
- B-) Bir fabrikada işçi olan bir kişinin fabrikayı satın alarak patron olması.
- C-) Markette kasiyerlik yapan bir kişinin züccaciyede kasiyerlik yapmaya başlaması.
- D-) Fırıncılık yapan bir esnafın pastane işletmeye başlaması
- E-) Genel lisede görev yapan öğretmenin Anadolu lisesinde görev yapmaya başlaması.

5. Aşağıdakilerden hangisi yatay hareketliliğe örnek gösterilemez?

- A) Antalya'daki portakal toplayıcılarının Adana'ya pamuk toplamaya gitmesi
- B) Köyde ırgatlık yapan kişinin şehirde fabrikada işçi çalışması
- C) Bakkalın dükkanını kapatarak manav dükkanı açması
- D) İşçinin, dedesinden kalan miras sayesinde işveren olması
- E) Şeker fabrikasında çalışan işçinin otomobil fabrikasına geçmesi

6. Aşağıdakilerden hangisi toplumsal tabakalaşma türlerinden biri olan Açık Sınıf Tabakalaşması'nın özelliklerinden değildir?

- A-) Bireylerin statüleri başarılarına göre de şekillenebilir.
- B-) Demokratik yönetimlerde görülür.
- C-) Bireyler, sınıf ve tabakalar arasında kolay geçiş yapar
- D-) Bireylerin yeteneklerine göre statü değiştirebilmesi.
- E-) Tarıma dayalı toplumlara özgü tabakalaşma türüdür.

7-Aşağıdakilerden hangisi, Köy toplumsal grubunun özelliklerinden değildir?

- A-) Geleneklerin toplum yapısında önemi büyüktür.
- B-) Tarım ve hayvancılık faaliyetleri önemlidir.
- C-) Teknik iş bölümü ve uzmanlaşma gelişmiştir.
- D-) Birincil ilişkiler yaygındır.
- E-) Nüfus yapısı homojendir.(insanlar birbirine benzer)

8-Aşağıdakilerden hangisi, Kent toplumsal grubunun özelliklerinden değildir?

- A-) Kollektif dayanışma ve birlikte tüketim yaygındır.
- B-) Teknik iş bölümü ve uzmanlaşma gelişmiştir.
- C-) Eğitimle meslekte uzmanlaşma yaygındır.
- D-) Toplum yaşamını hukuk kuralları düzenler.
- E-) Ticaret, Sanayi ve hizmet sektörleri gelişmiştir.

9-"İki veya daha fazla bireyin ya da grubun, belli bir hedefe ulaşmak için içine girdiği yarışır" diye tanımlanan toplumsal etkileşim tipi aşağıdakilerden hangisidir?

- A) Uyum
- B) Mübadele
- C) Rekabet
- D) Uyarılma
- E) Çatışma

10-"Bireyin bir başkası için gönüllü olarak ve karşılığında bir şey bekleyerek yaptığı eylem." diye tanımlanan toplumsal etkileşim tipi aşağıdakilerden hangisidir?

- A) Mübadele B) Uyarlama C) Uyum  
D) Çatışma E) Rekabet

11. "Bireylerin bir hedefe varmak için çabalarını birleştirdikleri etkileşim biçimidir." diye tanımlanan

toplumsal etkileşim tipi aşağıdakilerden hangisidir?

- A) İş birliği B) Çatışma C) Mübadele  
D) Uyum E) Uyarlama

12. "Köyden kente göç etmiş bireylerin kentin yaşama biçimini benimsemesi." Aşağıdaki etkileşim biçimlerinden hangisine örnek oluşturur?

- A) İş birliği B) Çatışma C) Mübadele  
D) Uyum E) Uyarlama

Kültürel etkileşim sonucu, planlanmayan ve toplumun farkına varmadan yaşadığı değişimlerdir. Örneğin, bugün Türkiye'de insanların kot pantolon giymeleri, hamburger yemeleri, kola içmeleri başka toplumlarla kitle iletişim araçlarının oluşturduğu etkileşim sonucu öğrenilen alışkanlıklardır.

13-Bu parçada açıklanan değişim aşağıdakilerden hangisiyle adlandırılır?

- A) Zorla yapılan toplumsal değişme  
B) Toplumsal bütünleşme  
C) Serbest toplumsal değişme  
D) Toplumsal çözülme  
E) İhtilaller yoluyla yaşanan değişme

Toplumsal değişim, toplumsal hayatın her alanında zamanla gerçekleşir. Tarihsel süreçteki bütün toplumlar bir takım aşamalardan geçmiş ve bazı dönüşümlere uğramıştır. Bu dönüşümlerde pek çok etken rol oynamıştır.

14-Aşağıdakilerden hangisi toplumsal dönüşümleri kolaylaştıran etkenlerden biri değildir?

- A) Gelenek ve görenekler  
B) Kitle iletişim araçları  
C) Bilimsel gelişmeler  
D) Yeni teknolojik buluşlar  
E) Nitelikli insan gücü

15- Zonguldak'ta, maden kömürü işletmesi kurulmadan önce küçük bir yerleşim yeri idi. Maden ocaklarının açılması ve burada çalışacak insan gücüne duyulan ihtiyaç nedeniyle, yakın ve uzak çevreden gelen işçiler çalışmaya başlamıştır. Zonguldak aldığı iç göçler sonucu nüfusu artmış ve büyümeye başlamıştır. Zamanla Zonguldak ilçe ve il yapısına kavuşmuştur.

Bu parçaya göre toplumsal değişmeye sebep olan unsur aşağıdakilerden hangisidir?

- A) Kitle iletişim araçları  
B) Teknoloji  
C) İnsan  
D) Ekonomi  
E) Fiziki çevre

16- Aşağıdakilerden hangisi toplumsal değişmeyi yavaşlatan unsurlardan biridir.

- A) Bilimsel buluşların artması  
B) Kültürel etkileşimin artması  
C) Gelenek ve göreneklerin etkisinin artması  
D) Adaletli bir toplum oluşturma çabası  
E) Toplumsal yapıda çelişkilerin yaşanması

Toplumların ulusal düzeydeki faaliyetlerinin dünya düzeyine aktarılması uluslararası bir niteliğe kavuşması, dünya çapında siyaset, ekonomi, kültür ve sosyal alanlardaki sınırlarını aşarak değişmesidir.

17-Bu parçada açıklaması verilen kavram aşağıdakilerden hangisidir?

- A) Küreselleşme  
B) Modernleşme  
C) Toplumsal çözülme  
D) Toplumsal gerçeklik  
E) Toplumsal bütünleşme

- I. Toplumsal değerlere bağlılığın artması  
II. Sınıflar arasındaki farkın azalması  
III. Toplumsal sürtüşme ve çatışmanın başlaması

18-Toplumsal bütünleşmenin sağlandığı toplumda yukarıdakilerden hangisi görülmez.

- A) Yalnız I  
B) Yalnız II  
C) Yalnız III  
D) I ve II  
E) I,II ve III

19-Aşağıdakilerden hangisi bir toplumsal çözülme örneği olamaz?

- A) Toplumda aile içi şiddetin artması  
B) Hırsızlık ve gasp olaylarının artması  
C) İntihar vakalarının yaşanması  
D) Barışçıl protestoların artması  
E) Toplumsal kurumların reddedilmesi

- I- Küreselleşme  
II-Kültür  
III-Teknoloji  
IV-Fiziksel çevre  
V-Demografi

20-Yukarıda verilenlerden hangisi ya da hangileri toplumsal değişmeyi etkileyen faktörlerdir?

- A) I-III-V  
B) I-II-III-IV-V  
C) II-III-IV  
D) I-II-III-IV  
E) I-III

CEVAP FORMU

1	(A)	(B)	(C)	(D)	(E)	11	(A)	(B)	(C)	(D)	(E)
2	(A)	(B)	(C)	(D)	(E)	12	(A)	(B)	(C)	(D)	(E)
3	(A)	(B)	(C)	(D)	(E)	13	(A)	(B)	(C)	(D)	(E)
4	(A)	(B)	(C)	(D)	(E)	14	(A)	(B)	(C)	(D)	(E)
5	(A)	(B)	(C)	(D)	(E)	15	(A)	(B)	(C)	(D)	(E)
6	(A)	(B)	(C)	(D)	(E)	16	(A)	(B)	(C)	(D)	(E)
7	(A)	(B)	(C)	(D)	(E)	17	(A)	(B)	(C)	(D)	(E)
8	(A)	(B)	(C)	(D)	(E)	18	(A)	(B)	(C)	(D)	(E)
9	(A)	(B)	(C)	(D)	(E)	19	(A)	(B)	(C)	(D)	(E)
10	(A)	(B)	(C)	(D)	(E)	20	(A)	(B)	(C)	(D)	(E)

Not: Test soruları 5 puandır.

\*\*\*BAŞARILAR\*\*\*

Erdal AYDEMİR

Felsefe Grubu Öğretmeni